

*Lic. en Criminalística, Tec. en Balística, Tec. en
Papiloscopía, Tec. en Documentología.*



FCyT
Facultad de Ciencia
y Tecnología

UNIDAD 3: Fuerzas

Física I

Unidad 3: Contenidos

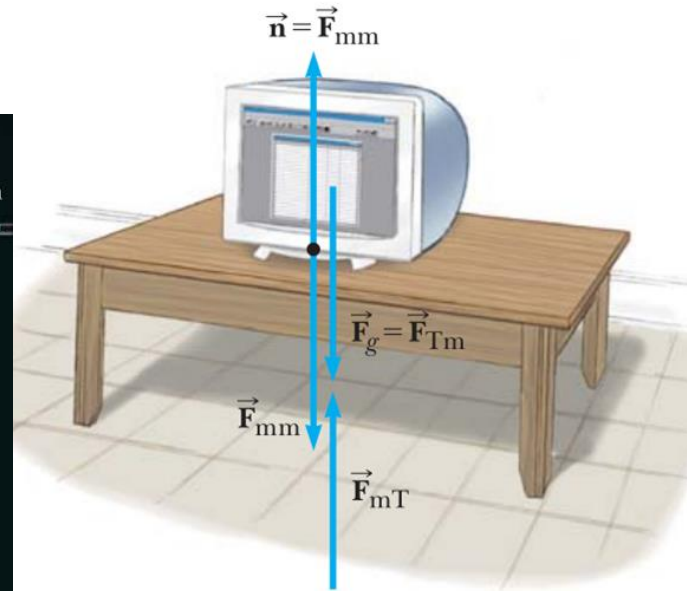
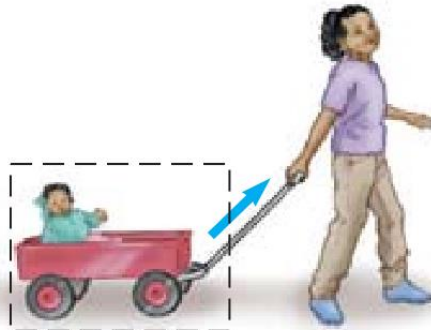
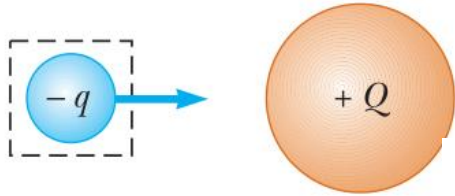
- **Concepto de fuerza**
 - Tipos de fuerzas
 - Definición de fuerzas típicas: peso, normal, tensión, fricción
- **Superposición de fuerzas**
 - Fuerza Resultante / neta y Fuerza Equilibrante
 - Diagramas de cuerpo libre: ejemplos de análisis
- **Leyes de Newton**
 - Inercia
 - Masa / aceleración
 - Acción-reacción
- **Equilibrio:**
 - Condiciones de Equilibrio: Capítulo 11.1 Sears / 12.1 Serway
 - Ley de Inercia: Capítulo 5.1 Sears / 5.2 Serway
 - Torque: Capítulo 10.1 Sears / 10.6 Serway
 - Equilibrio de cuerpos rígidos: Capítulo 11.3 Sears / 12.3 Serway

FUERZA

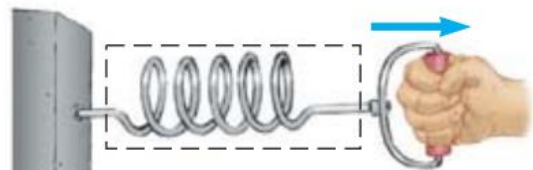
Es una interacción entre dos cuerpos o entre un cuerpo y su ambiente.

Es toda causa capaz de producir, modificar o impulsar un movimiento v/o deformar un cuerpo.

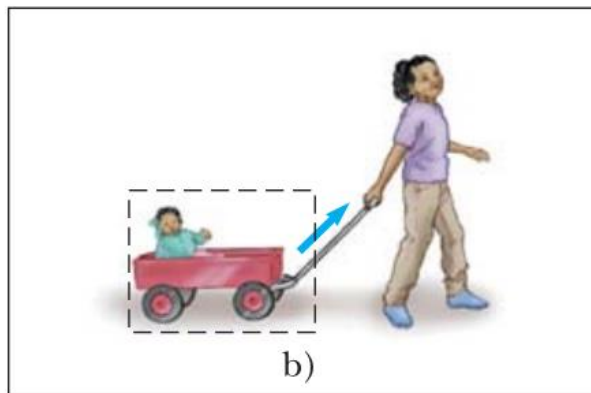
UNIDAD EN EL SI: Newton (N)



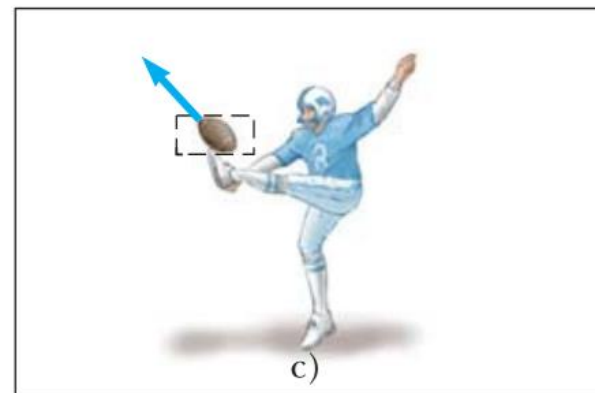
Fuerzas de contacto



a)



b)

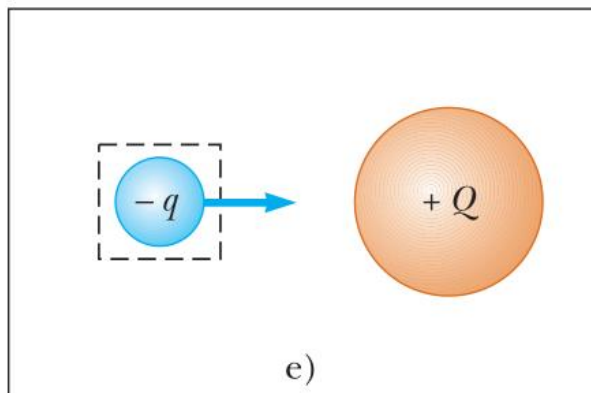


c)

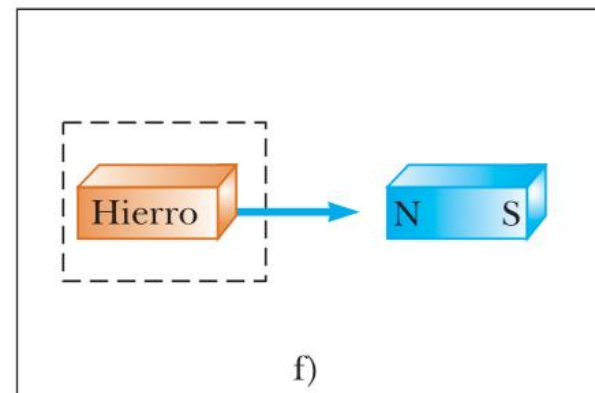
Fuerzas de campo



d)



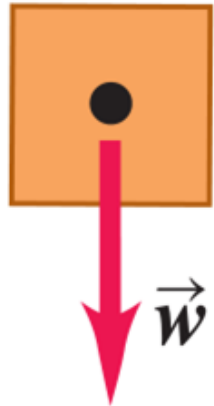
e)



f)

Fuerzas típicas:

PESO (w): El peso de un objeto es igual al módulo de la fuerza gravitacional ejercida sobre el objeto y varía con la posición.

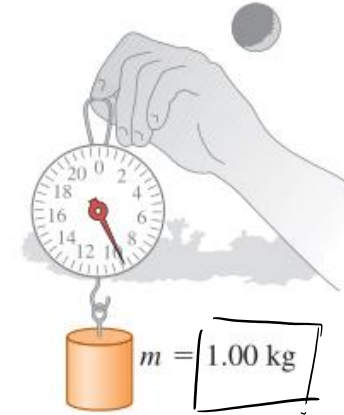


$$\vec{w} = m \cdot \vec{g}$$

Unidades:

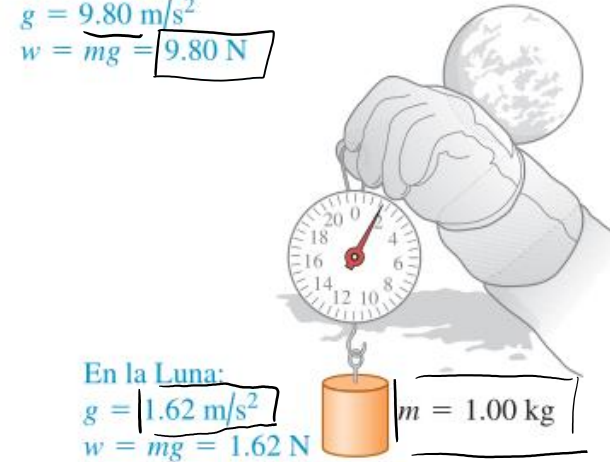
$$[N] = [kg] \cdot \left[\frac{m}{s^2} \right]$$

a)



En la Tierra:
 $g = 9.80 \text{ m/s}^2$
 $w = mg = 9.80 \text{ N}$

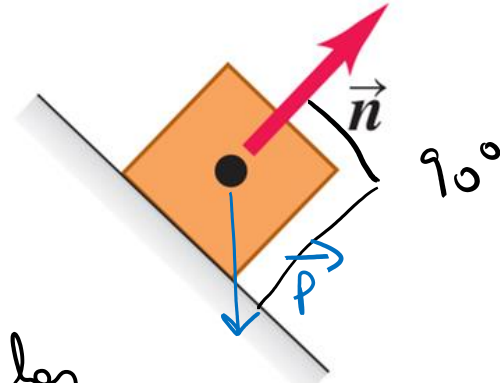
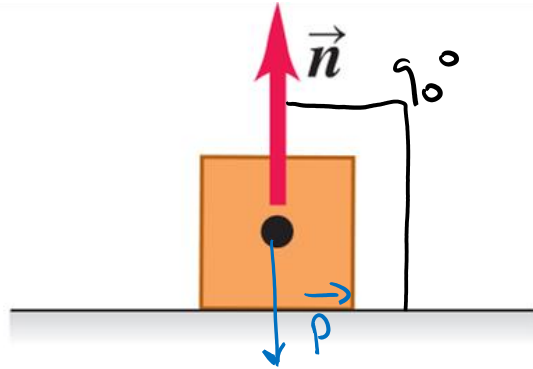
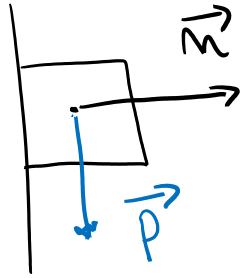
b)



En la Luna:
 $g = 1.62 \text{ m/s}^2$
 $w = mg = 1.62 \text{ N}$

Fuerzas típicas:

FUERZA NORMAL (n): cuando un objeto descansa o se empuja sobre una superficie, ésta ejerce un empujón sobre el objeto que es perpendicular a la superficie

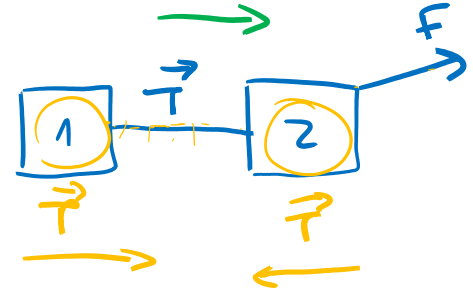
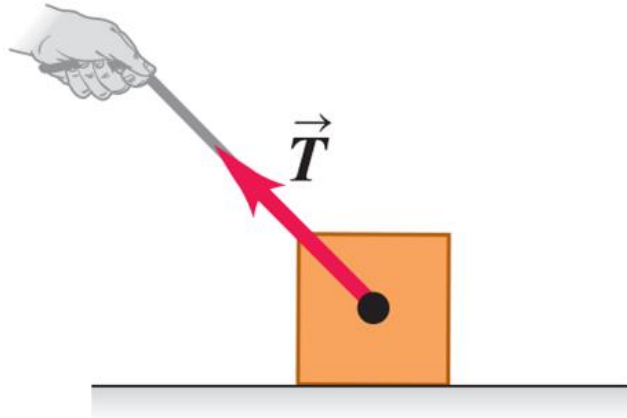


normal = perpendicular

Cuando el plano sobre el cual está situado el cuerpo es horizontal, la normal es opuesta al peso, pero no ocurre así cuando el plano es inclinado.

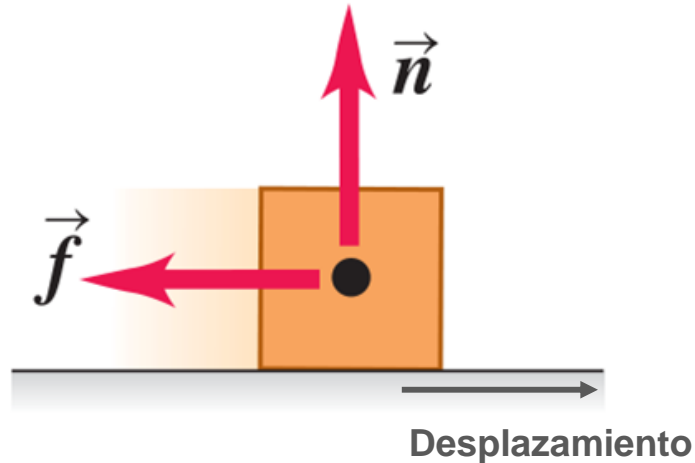
Fuerzas típicas:

FUERZA DE TENSIÓN (T): una fuerza de tirón ejercida sobre un objeto por una cuerda, un cordón, cable, etc.



Fuerzas típicas:

FUERZA DE FRICCIÓN o ROZAMIENTO (f): además de la fuerza normal, una superficie puede ejercer una fuerza de fricción sobre un objeto que es paralela a la superficie. Siempre es OPUESTA al desplazamiento del objeto

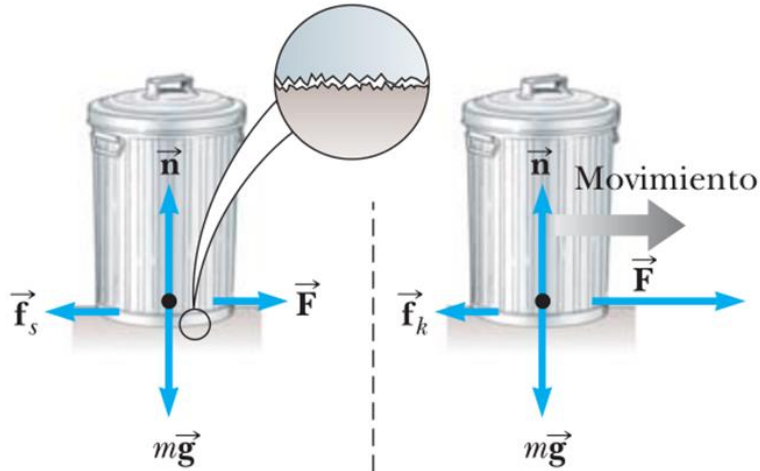


FUERZA DE FRICCIÓN

- ESTÁTICA

$$F_s = \mu_s \cdot n$$

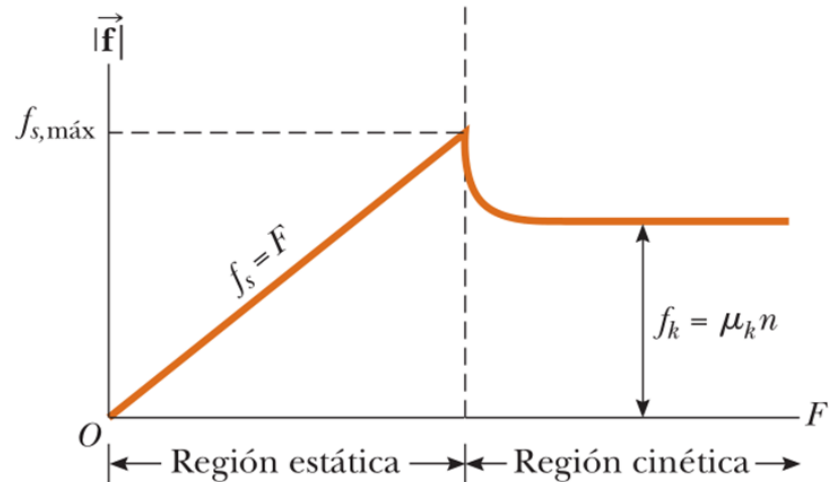
μ_s = *coeficiente de fricción estática*



- CINÉTICA

$$F_k = \mu_k \cdot n$$

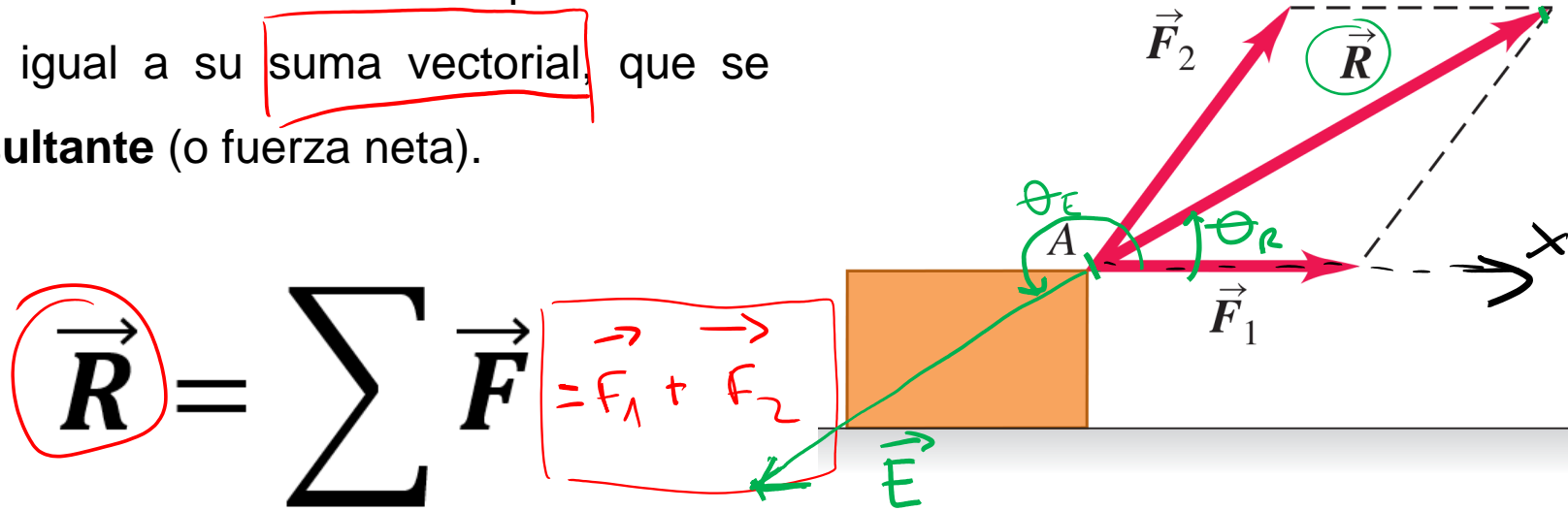
μ_k = *coeficiente de fricción cinética*



SUPERPOSICIÓN DE FUERZAS

Dos fuerzas \vec{F}_1 y \vec{F}_2 que actúan sobre un punto A tienen el mismo efecto que una sola fuerza \vec{R} igual a su suma vectorial, que se llama **resultante** (o fuerza neta).

$$\vec{E} + \vec{R} = \vec{0}$$

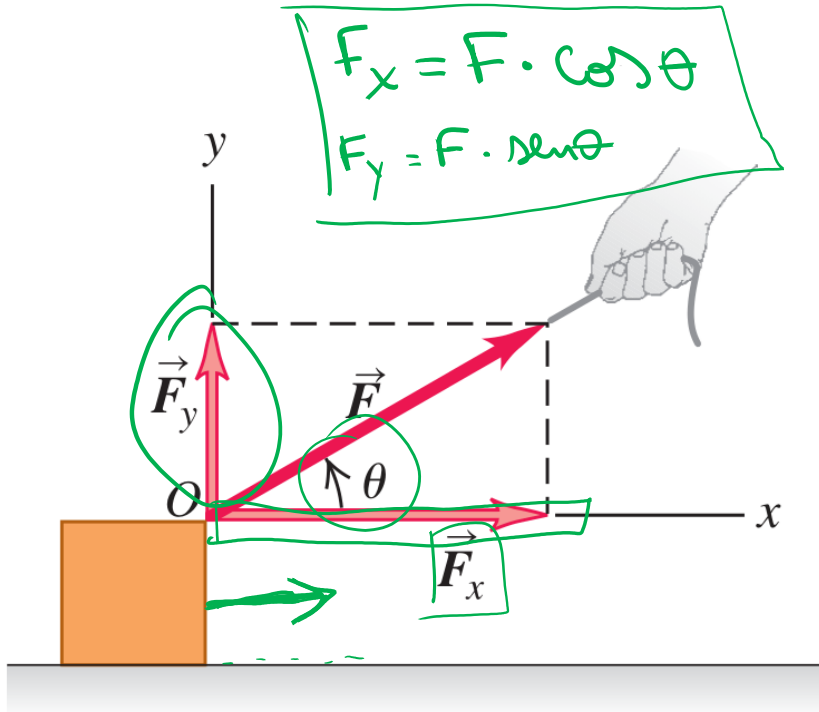


$$\vec{R} = \sum \vec{F} = \vec{F}_1 + \vec{F}_2$$

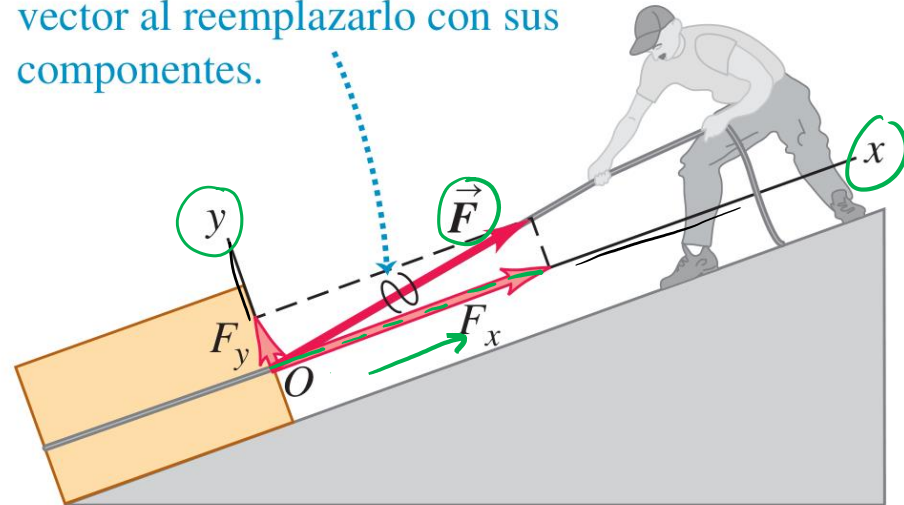
Sumatoria

Descomposición de fuerzas:

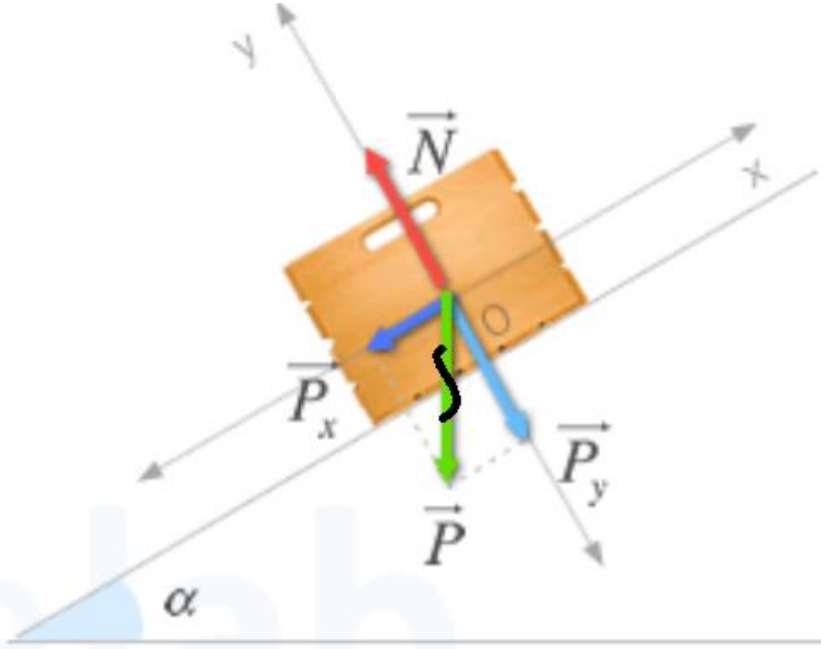
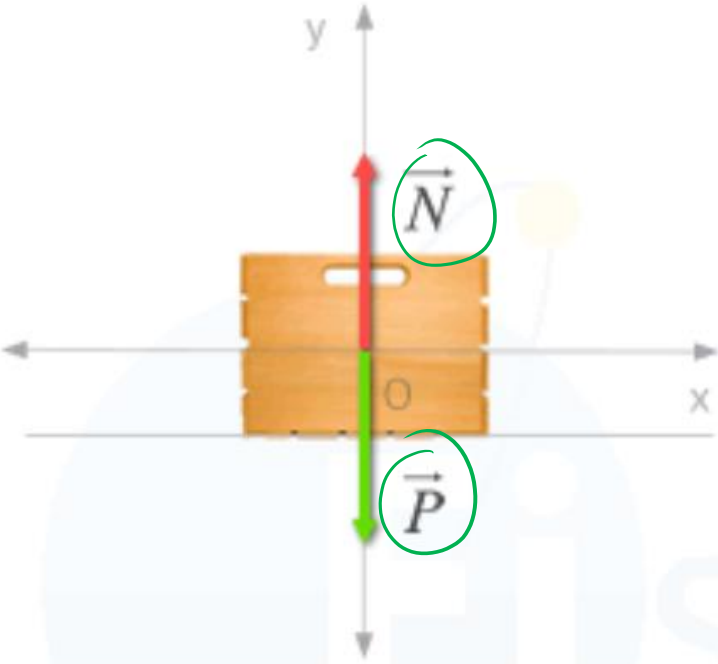
Cualquier fuerza puede ser sustituida por sus vectores componentes, actuando en el mismo punto.



Marcamos una línea ondulada sobre un vector al reemplazarlo con sus componentes.

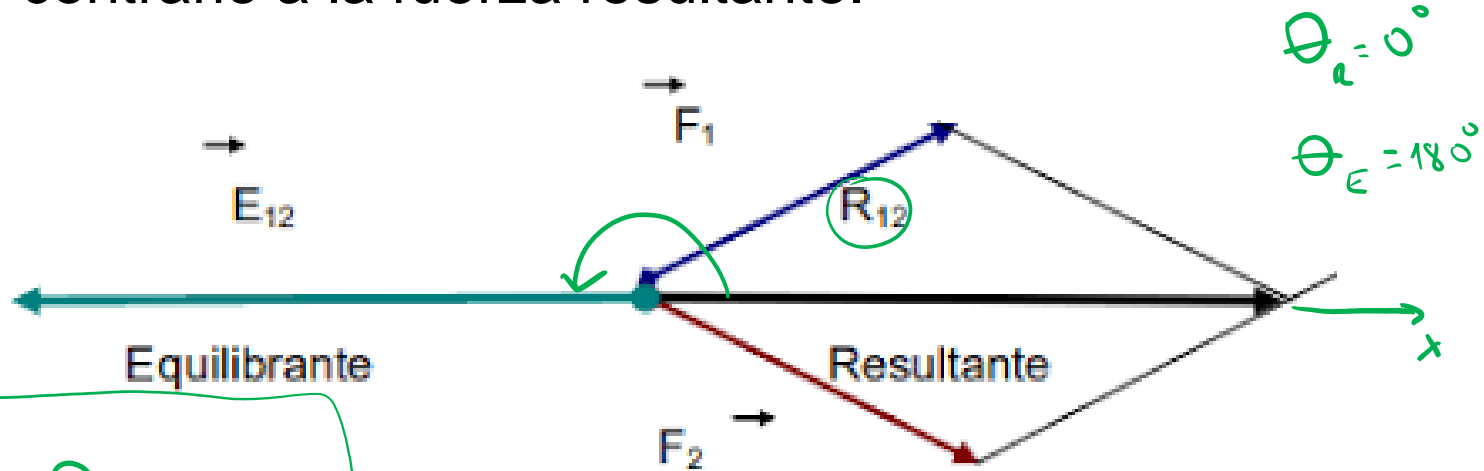


Descomposición de la fuerza Peso



Fuerza Equilibrante:

Es la fuerza que tiene la misma dirección, igual intensidad y sentido contrario a la fuerza resultante.

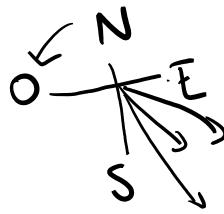


$$\theta_R = 0^\circ$$
$$\theta_E = 180^\circ$$

$$\vec{E} + \vec{R} = 0$$

$$\theta_E = \theta_R + 180^\circ$$

Ejemplo



Tres personas tiran de un cuerpo al mismo tiempo aplicando las siguientes fuerzas: $F_1 = 5\text{N}$ al Sur. $F_2 = 10\text{N}$ (30°) al Sureste y $F_3 = 7\text{N}$ 45° al Noreste. Calcular módulo y dirección de la fuerza resultante y de la fuerza equilibrante

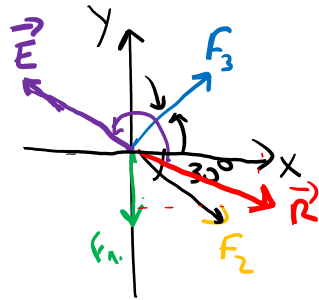
$$\vec{F}_1 = (5\text{N}; 270^\circ) = 0 \hat{i} + (-5\text{N}) \hat{j}$$

$$\vec{F}_2 = (10\text{N}; 330^\circ) = (8,7\text{N}) \hat{i} + (-5\text{N}) \hat{j}$$

$$\vec{F}_3 = (7\text{N}; 45^\circ) = (4,9\text{N}) \hat{i} + (4,9\text{N}) \hat{j}$$

$$\vec{R} = (13,6\text{N}) \hat{i} + (-5,1\text{N}) \hat{j}$$

$$\vec{E} = (14,5\text{N}; 159^\circ)$$



$$R = \sqrt{(13,6\text{N})^2 + (-5,1\text{N})^2}$$

$$R = 14,5\text{N}$$

$$\theta_r = \text{arc tan} \left(\frac{-5,1\text{N}}{13,6\text{N}} \right) \approx -21^\circ$$

$$\theta_e = 339^\circ$$

$$\begin{aligned} \theta_e &= \theta_r + 180^\circ \\ \theta_e &= (-21^\circ) + 180^\circ = 159^\circ \end{aligned}$$

Diagramas de cuerpo libre:

Es un diagrama que muestra el cuerpo elegido solo, “libre” de su entorno, con vectores que muestren las magnitudes y direcciones de todas las fuerzas aplicadas sobre el cuerpo por todos los cuerpos que interactúan con él.

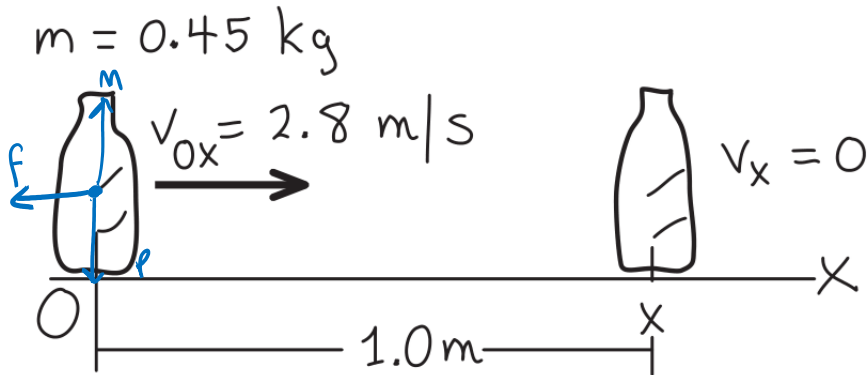
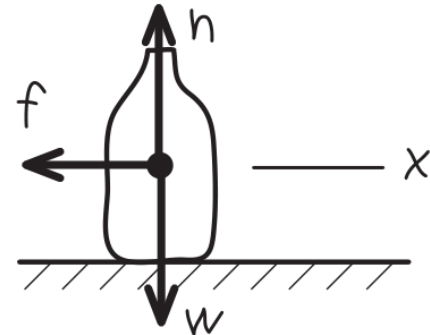
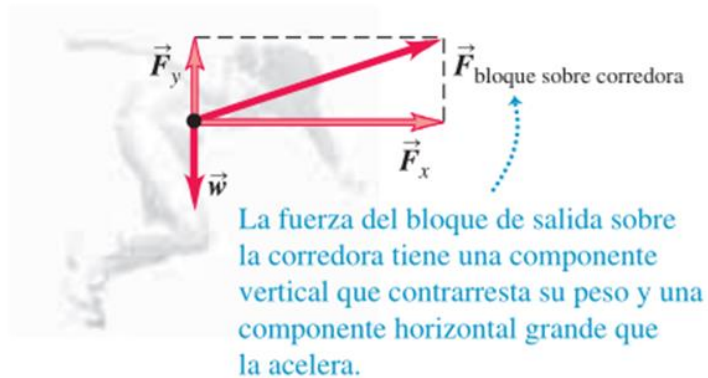


Diagrama de
cuerpo libre



Ejemplos:



Para saltar, este jugador empujará hacia abajo contra el piso, incrementando la fuerza de reacción hacia arriba \vec{n} del piso sobre él.

Este jugador es un objeto en caída libre.

Ejemplo 5.4 “Física para Ciencias e Ingeniería”. Serway, Vol. 1, (pág. 111)

EJEMPLO 5.4

Un semáforo en reposo

Un semáforo que pesa 122 N cuelga de un cable unido a otros dos cables sostenidos a un soporte como en la figura 5.10a. Los cables superiores forman ángulos de 37.0° y 53.0° con la horizontal. Estos cables superiores no son tan fuertes como el cable vertical y se romperán si la tensión en ellos supera los 100 N. ¿El semáforo permanecerá colgado en esta situación, o alguno de los cables se romperá?

SOLUCIÓN

Conceptualizar Examine el dibujo de la figura 5.10a. Suponga que los cables no se rompen y que nada se mueve.

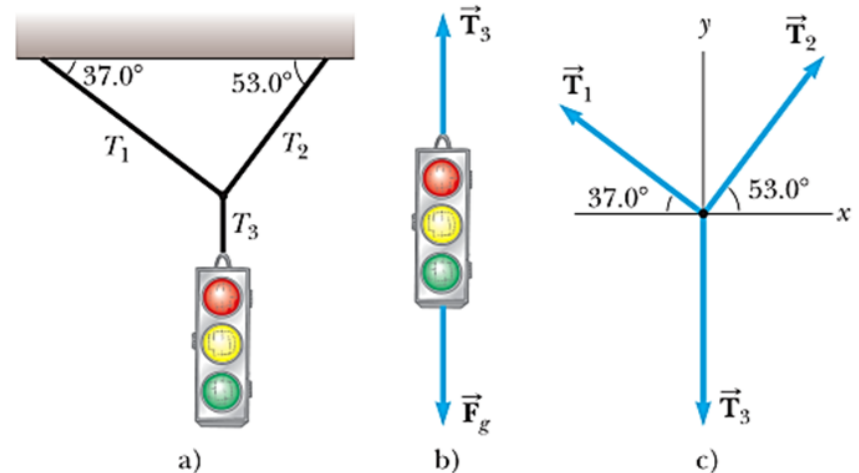



Figura 5.10 (Ejemplo 5.4) a) Un semáforo suspendido por cables. b) Diagrama de cuerpo libre del semáforo. c) Diagrama de cuerpo libre del nudo donde se juntan los tres cables.

Ejemplo 5.13 “Física Universitaria”. Sears, Vol. 1, (pág. 152)

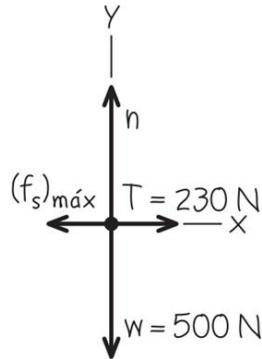
Ejemplo 5.13 Fricción en movimiento horizontal

Usted intenta mover una caja de 500 N por un piso horizontal. Para comenzar a moverla, debe tirar con una fuerza horizontal de 230 N. Una vez que la caja “se libera” y comienza a moverse, puede mantenerse a velocidad constante con sólo 200 N. ¿Cuáles son los coeficientes de fricción estática y cinética?

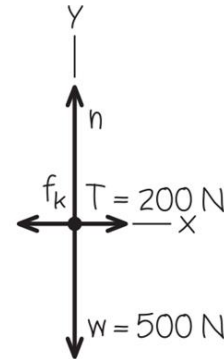
a) Se tira de una caja



b) Diagrama de cuerpo libre de la caja justo antes de comenzar a moverse



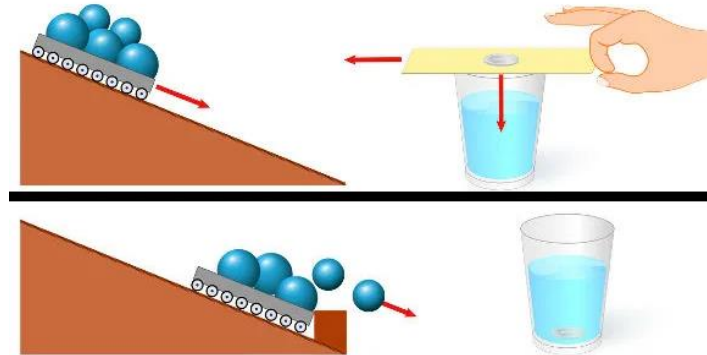
c) Diagrama de cuerpo libre de la caja que se mueve a rapidez constante



LEYES DE NEWTON

Primera Ley o Ley de Inercia:

En ausencia de fuerzas externas un objeto en reposo se mantiene en reposo y un objeto en movimiento continúa en movimiento con una velocidad constante (esto es, con una rapidez constante en una línea recta).



Si la fuerza resultante (o fuerza neta) ejercida sobre el objeto es igual a cero, éste no experimenta ningún cambio en su velocidad: si se estaba moviendo, sigue moviéndose, y si estaba en reposo continúa en reposo

LEYES DE NEWTON

Segunda Ley o Ley de Masas:

Si una fuerza externa neta actúa sobre un cuerpo, éste se acelera. La dirección de aceleración es la misma que la dirección de la fuerza neta. El vector de fuerza neta es igual a la masa del cuerpo multiplicada por su aceleración.

La fuerza de la mano acelera el ladrillo



Si la fuerza es del doble, la aceleración también es el doble

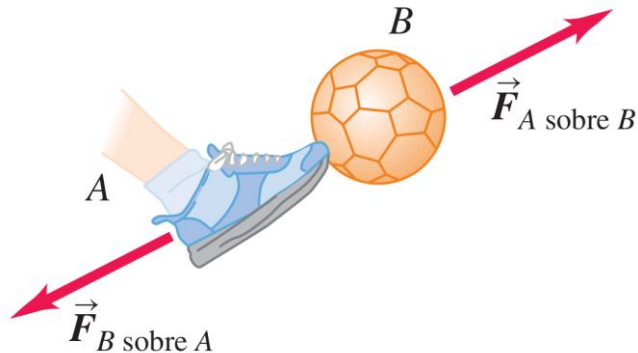


Si la fuerza resultante (o fuerza neta) ejercida sobre el objeto es diferente de cero, éste experimenta un cambio en su velocidad (aceleración) proporcional a dicha fuerza y en la misma dirección.

LEYES DE NEWTON

Tercera Ley o Ley de Acción Reacción:

Si el cuerpo A ejerce una fuerza sobre el cuerpo B (una “acción”), entonces, B ejerce una fuerza sobre A (una “reacción”). Estas dos fuerzas tienen la misma magnitud pero dirección opuesta, y actúan sobre diferentes cuerpos.



Esta Ley se aplica a la interacción de dos cuerpos, a diferencia de las anteriores, que hablan de fuerzas externas ejercidas en un sólo objeto.

EQUILIBRIO

Condiciones de equilibrio:

1. Equilibrio lineal

$$\Sigma \vec{F} = 0$$

$$\Sigma \vec{F}_x = 0 \quad \Sigma \vec{F}_y = 0$$

La sumatoria de todas las fuerzas externas debe ser cero (en todas direcciones) → El cuerpo no se desplaza

2. Equilibrio Rotacional

$$\Sigma \vec{\tau} = 0$$

La sumatoria de todos los torques debe ser cero → El cuerpo no rota

EQUILIBRIO

Condiciones de equilibrio:

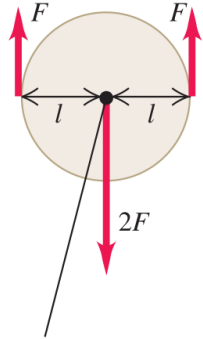
Condiciones de equilibrio:

primera condición satisfecha:

fuerza total = 0, así que un cuerpo en reposo no tiene la tendencia a empezar a moverse como un todo.

Segunda condición satisfecha:

la torca total alrededor del eje = 0, así que un cuerpo en reposo no tiene la tendencia a empezar a moverse como un todo.



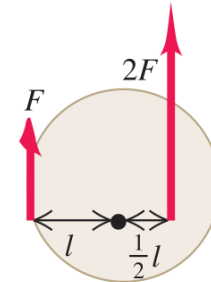
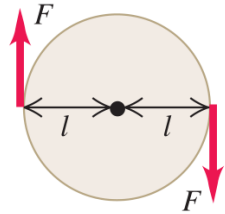
Eje de rotación (perpendicular a la figura)

Primera condición satisfecha:

fuerza total = 0, así que un cuerpo en reposo no tiene la tendencia a empezar a moverse como un todo.

Segunda condición NO

satisfecha: hay una torca total en sentido horario alrededor del eje, así que el cuerpo en reposo empezará a girar en sentido horario.



Primera condición NO

satisfecha: hay una fuerza neta hacia arriba, así que un cuerpo en reposo empezará a moverse hacia arriba.

Segunda condición satisfecha:

la torca total alrededor del eje = 0 así que el cuerpo en reposo no tiene la tendencia a empezar a girar.

Momento de Torsión o Torque:

- Es una magnitud vectorial
- Es la medida de la tendencia de una fuerza para causar o alterar la rotación de un cuerpo
- Se define como el producto vectorial entre la fuerza (\mathbf{F}) y el brazo de palanca (\mathbf{r}).

$$\vec{\tau} = \vec{r} \times \vec{F}$$

La unidad del torque en el SI: es el newton-metro.

$$[\tau] = N \cdot m$$

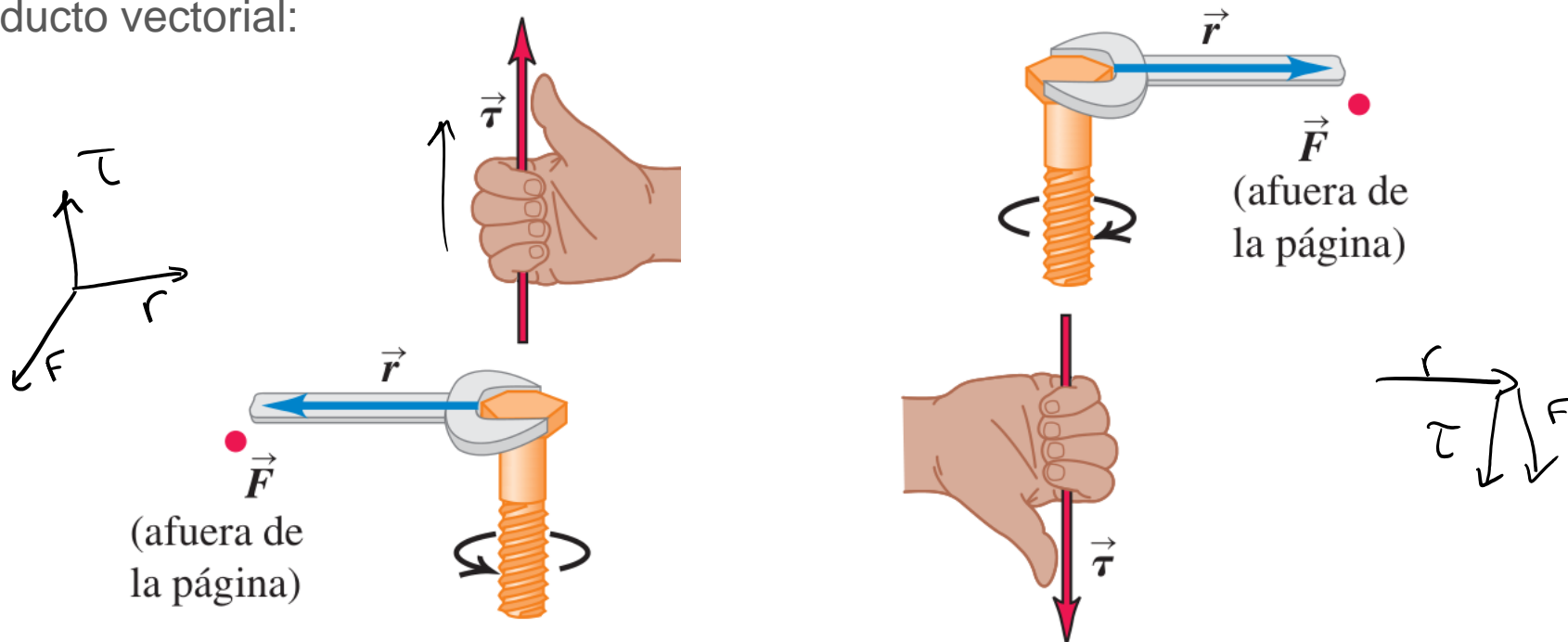
Modulo

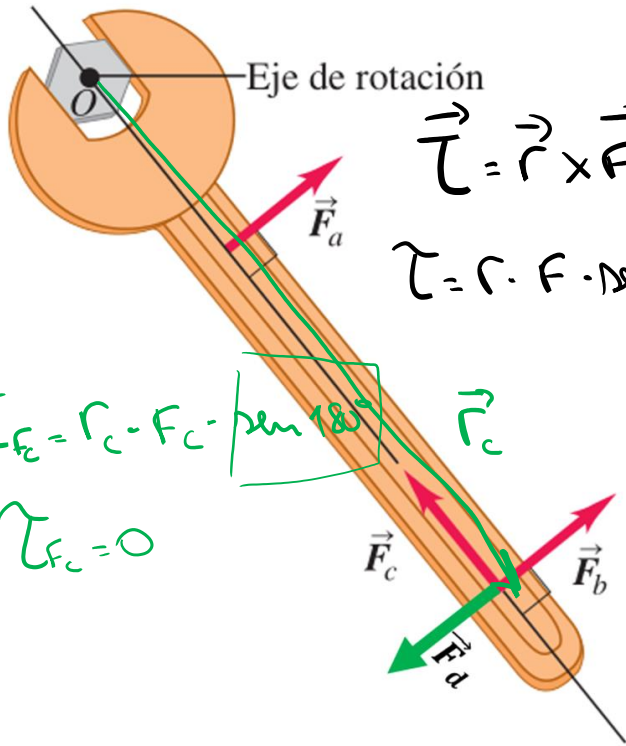
$$\tau = r \cdot F \cdot \sin \theta$$

Momento de Torsión o Torque:

Regla de la mano derecha para el producto vectorial:

$$\vec{\tau} = \vec{r} \times \vec{F}$$

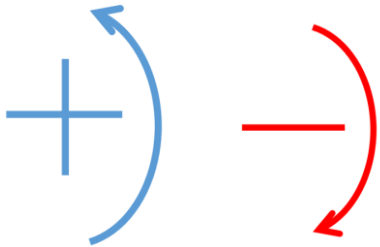




Los momentos de torsión antihorarios se consideran positivos y los momentos de torsión en sentido horario negativos.

Observe la imagen y responda:

- ¿Cómo será el momento de torsión de F_a con respecto a F_b ? ¿Por qué?
- ¿Cómo será el momento de torsión de F_c ? ¿Por qué?
- ¿Cómo será el momento de torsión de F_d con respecto a F_b suponiendo que sus intensidades son iguales?



EQUILIBRIO

Aplicación de la Ley de Inercia: Sistema de fuerzas en equilibrio

EJEMPLO 5.4

Un semáforo en reposo

Un semáforo que pesa 122 N cuelga de un cable unido a otros dos cables sostenidos a un soporte como en la figura 5.10a. Los cables superiores forman ángulos de 37.0° y 53.0° con la horizontal. Estos cables superiores no son tan fuertes como el cable vertical y se romperán si la tensión en ellos supera los 100 N. ¿El semáforo permanecerá colgado en esta situación, o alguno de los cables se romperá?

SOLUCIÓN

Conceptualizar Examine el dibujo de la figura 5.10a. Suponga que los cables no se rompen y que nada se mueve.

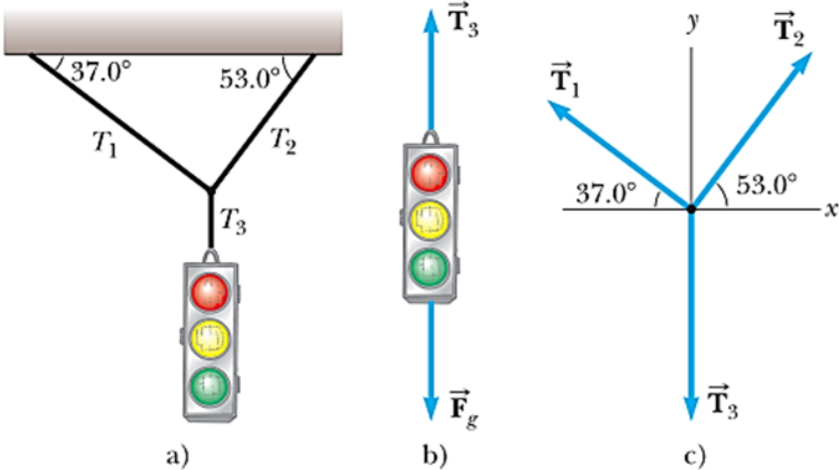


Figura 5.10 (Ejemplo 5.4) a) Un semáforo suspendido por cables. b) Diagrama de cuerpo libre del semáforo. c) Diagrama de cuerpo libre del nudo donde se juntan los tres cables.

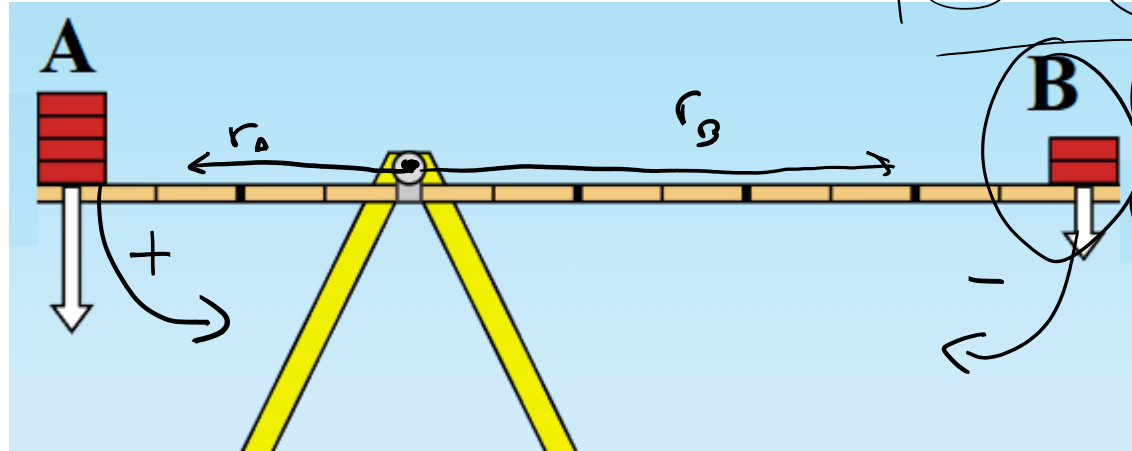
Equilibrio de cuerpos rígidos

$$\theta_A = \theta_B = 90^\circ$$

El cuerpo A pesa 80N y está a 2m del eje de rotación.
Determine el peso del cuerpo B, ubicado a 3m del eje,
para que el sistema esté en equilibrio.

Respuesta:

El cuerpo B pesa
53N



$$\sum \tau = 0$$
$$\tau_A + (-\tau_B) = 0$$

$$(F_A \cdot r_A) - (F_B \cdot r_B) = 0$$
$$(80 \text{ N} \cdot 2 \text{ m}) - (F_B \cdot 3 \text{ m}) = 0$$

$$160 \text{ Nm} - (F_B \cdot 3 \text{ m}) = 0$$

$$160 \text{ Nm} = F_B \cdot 3 \text{ m}$$

$$\frac{160 \text{ Nm}}{3 \text{ m}} = F_B \approx 53 \text{ N}$$